



Els elements del paisatge

Els paisatges són diferents segons el lloc on es troben, les plantes i els animals que hi viuen, i els canvis que hi ha fet les persones.

Hi ha paisatges de muntanya, de plana i de costa. Cadascun té elements naturals propis:



paisatge de muntanya



paisatge de plana



UNA VALL ÉS UN
TERRENY ENTRE
MUNTANYES.



paisatge de costa

1.- Relaciona cada element amb el seu paisatge:

Paisatge de costa ▪

▪bosc

▪turó

Paisatge de muntanya ▪

▪platja

▪muntanya

Paisatge de plana ▪

▪mar

▪vall

▪plana

2.- Observa i escriu el nombre que correspongui. Després respon:

1 camp de conreu

2 mar

3 bosc


4 muntanya

5 costa

6 vall

7 turó

8 plana



3.-Contesta:

- Quin dels elements marcats ha estat construït per les persones?

- Creus que són importants per les persones els camps de conreu? Per què?

Sant Vicenç de Montalt pertany al paisatge de costa (mar). Hi ha paisatges de mar molt diferents.

Aquí teniu uns quants exemples per observar:



Platges de sorra fina, composta de trossets de roca i petxines.



Platges de dunes, muntanyes de sorra que mou el vent.



Penya-segats, roques grosses que amb la força del mar adopten formes diferents.



Salines, on es recull l'aigua del mar, que s'evapora amb el calor del sol i queda la sal.

4.-Quins són els 4 tipus de paisatge de mar que acabes de observar?
