

# BALANCES I CINTES MÈTRIQVES

**17.** En Jordi, en Pau i la Sònia han marcat les seves alçades en un tallador. Fixa-t'hi i completa:

- Qui mesura 1 m i 15 cm?

.....

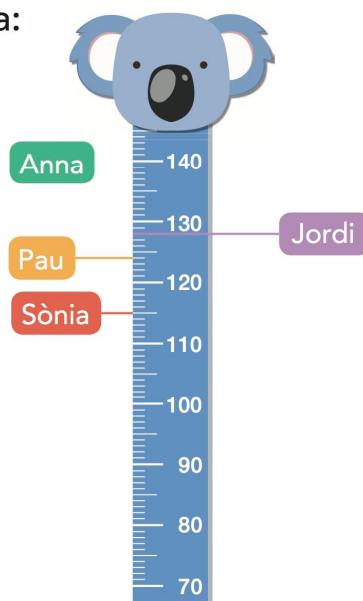
- Quants centímetres mesura en Jordi?

.....

- Quants centímetres més mesura en Pau respecte a la Sònia?

.....




- L'Anna mesura 1 m i 34 cm.  
Marca la seva alçada en el tallador.



**18.** Ordena de més gran a més petita les quatre alçades escrites en centímetres:

..... > ..... > ..... > .....

19. Fixa't en les balances i respon:



- La Marta s'ha pesat a la balança **b**. Quant pesa? ..... kg
- En Jordi pesa 2 kg més que la Marta. Quina és la seva balança?
- L'Andreu pesa 26 kg. En quina balança s'ha pesat?

20. Calcula el pes de cadascú:



La Sara pesa ..... kg.

Laura



La Laura pesa ..... kg.



Joan

En Joan pesa ..... kg.

Operacions

