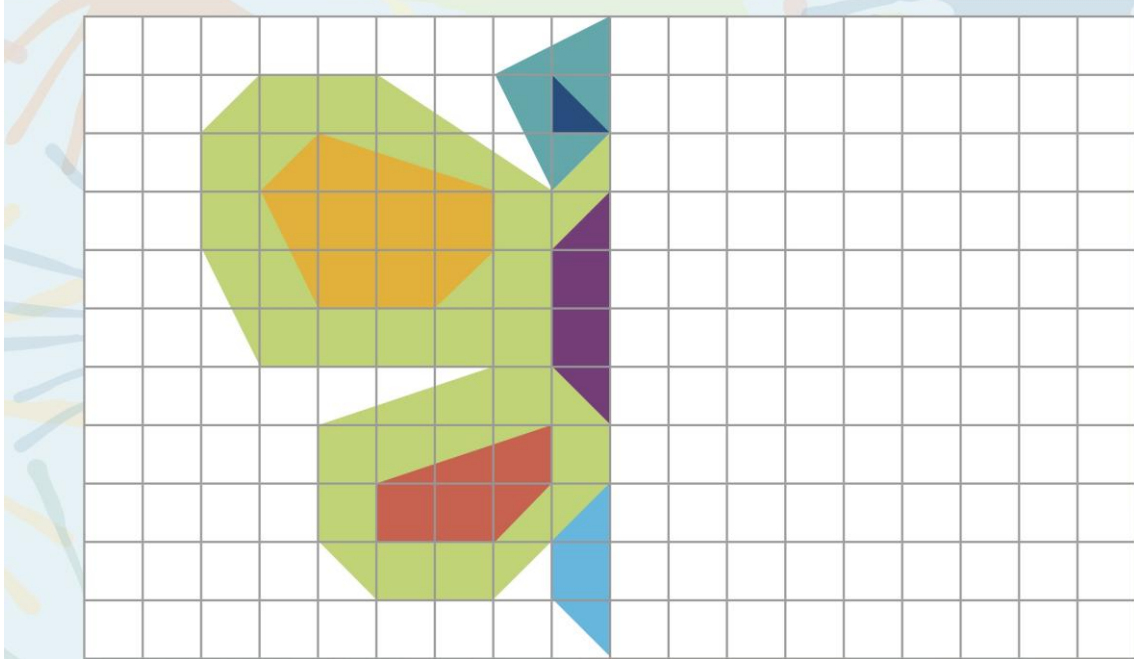


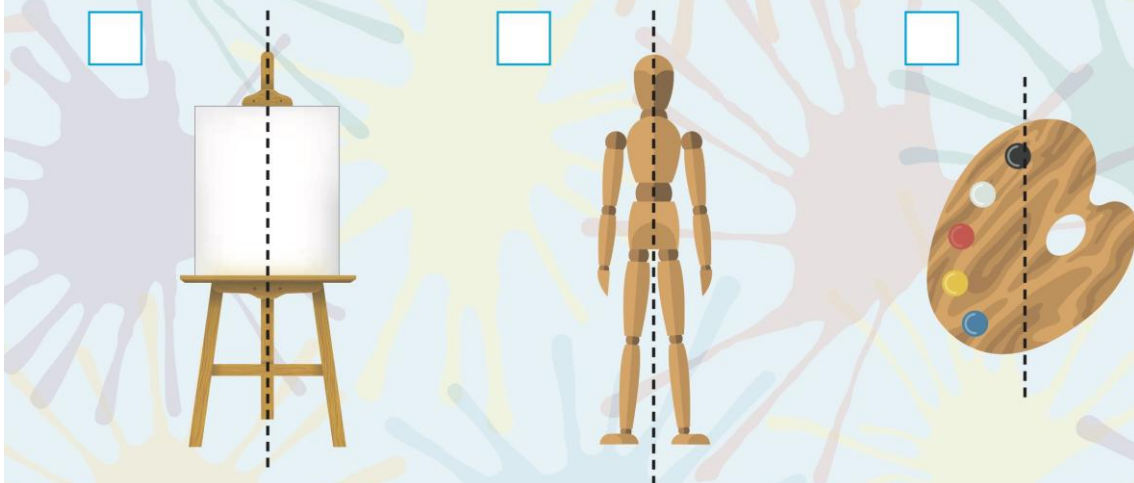
Nom: ..... Data: .....

# LA SIMETRIA

13. Dibuixa l'altra meitat i acoloreix:



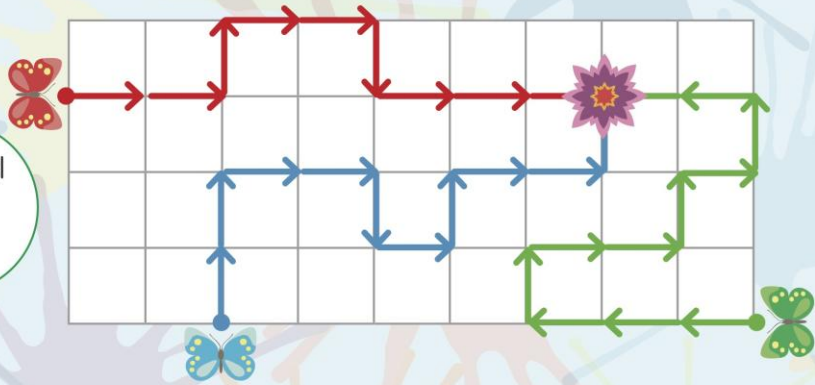
14. Quin objecte no és simètric? Marca'l amb una X:



**15.** Fixa't en els camins que van a la flor.  
Després, completa:



Utilitza el codi de fletxes.



	→	→	↑	→	→					
	↑	↑	→							
	←	←								

**16.** Dibuixa el camí que seguirà en Bru:

Traça el camí des del punt vermell.



→	↓	→	→	↑	↑	→	→	→	→	↓	←
---	---	---	---	---	---	---	---	---	---	---	---



**9.** Dibuixa la figura seguint el model i acoloreix-la:

