

PROBLEMES

13. Dibuixa o ratlla i resol:

- Si compro 3 entrades més, quantes en tindrè?

$$3 + 3 = \dots\dots$$

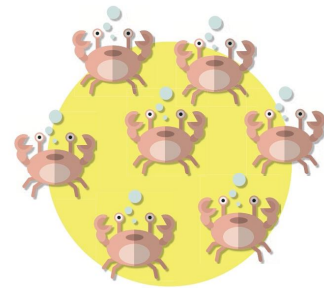
Tindrè $\dots\dots$ entrades.



- Si se'n van 4 crancs de mar, quantes en queden?

$$\dots\dots \square \dots\dots = \dots\dots$$


Queden $\dots\dots$ crancs de mar.



- Tinc 3 peixos vermells. Si en compro 2 de blaus, quantes peixos tindrè?

$$\dots\dots \square \dots\dots = \dots\dots$$


Tindrè $\dots\dots$ peixos.





- Si regalo 3 peixos, quantes en queden a la peixera?

$$\dots\dots \square \dots\dots = \dots\dots$$

Queden $\dots\dots$ peixos.





14. Dibuixa i resol:

- En una peixera hi ha 9 . Si regalem 4 , quants peixos queden?

.....  =




Queden peixos.

- La Sara té 5  i 3 . Quants peixos té en total?

.....  =



Té peixos.

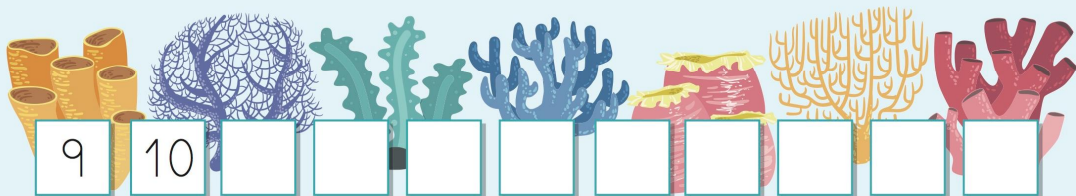
- A l'aquari hi ha 6 . Si regalem 4 , quants pops queden?

.....  =



Queden pops.

15. Completa la sèrie:



Dins el requadre del exercici 18 fes la operació corresponent o suma (+) o resta (-).

18. Dibuixa, ratlla i resol:

Hi havia 12 🐢. Ara
queden 5 🐢. Quantes se
n'han emportat?

Se n'han emportat

Ahir hi havia 4 🍷.
Si en planten 7,
quants n'hi queden?

N'hi queden

Té 15 🐟. Si regala
6 🐟, quants n'hi
queden?

N'hi queden